















I) Suivre l'élection présidentielle : une véritable course de haies !

Droite/ Gauche ?		Ligne de départ Une idée principale (Recherche)							
	Logo du parti et nom	Economique	Politique	Noms des candidats	500 parrainages (cochez la pastille si obtenu).	Résultats 1er tour – 22 avril 2007	Résultats 2 ^e tour – 6 mai 2007	Président	Premier ministre
{					<input type="radio"/>				
					<input type="radio"/>				
						<input type="radio"/>			
						<input type="radio"/>			
						<input type="radio"/>			
						<input type="radio"/>			
						<input type="radio"/>			
						<input type="radio"/>			

Nom et score

Désigne le...

Nom et score









Nom et score

Gouvernement

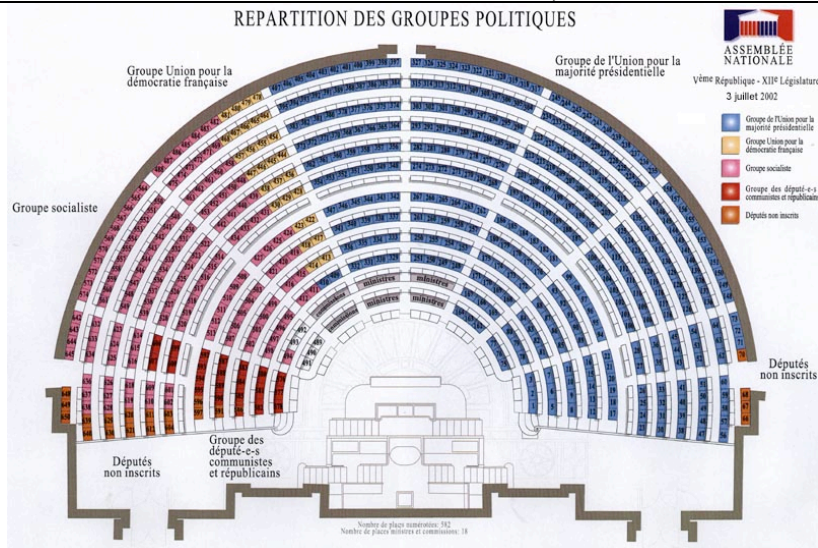
 Ministre de l'intérieur :
 Ministre des finances :
 Ministre de la Défense :
 Ministre de la justice :

II) Les partis politiques, pivots et piliers de la démocratie

Etudiez les logos de chacun de ces grands partis : vous pourrez les retrouver en couleurs grâce à une recherche rapide avec www.wikipedia.fr

	Couleur dominante et motif visible	Signification du logo et valeur mise en avant	Grand personnage historique ayant appartenu à ce parti ou qui l'a influencé.	Où habite leur électorat ? A l'aide des cartes du site http://www.eludefrance.net/presidentielles/pres2002/president2002T1/presidentID2002.htm expliquez où réside l'électorat de chacun de ces partis.
				
				
				
				
				→ donnez une explication
				
				
				→ donnez une explication

III) Les résultats des élections législatives (10 et 17 juin 2007)

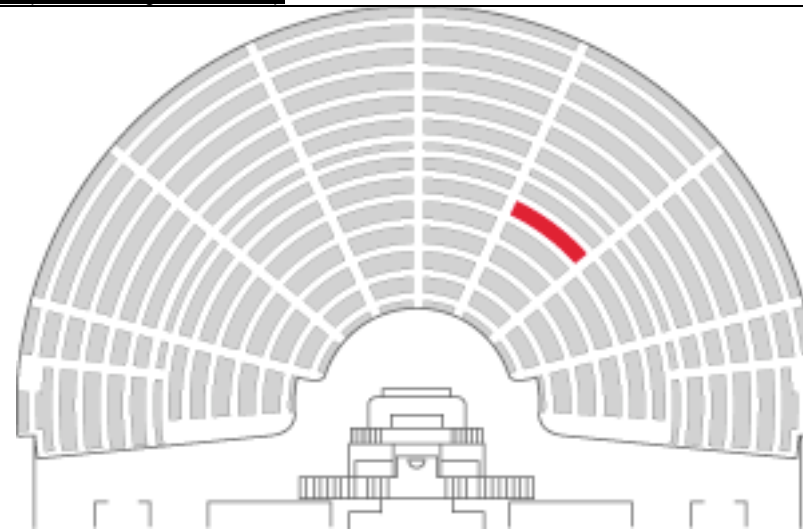


Voici la répartition des groupes politiques à l'assemblée nationale entre 2002 et 2007.

http://www.assemblee-nationale.fr/qui/deputes_hemicycle.asp

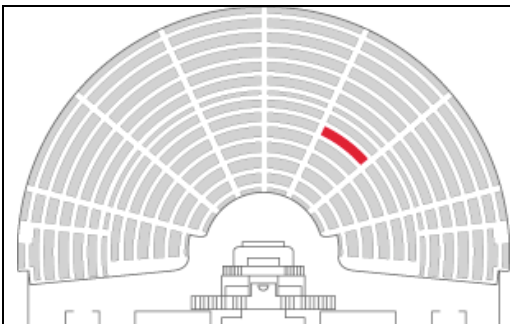
Combien de groupes politiques à l'assemblée ? _____

Quel est le groupe qui a la majorité à l'assemblée ? _____

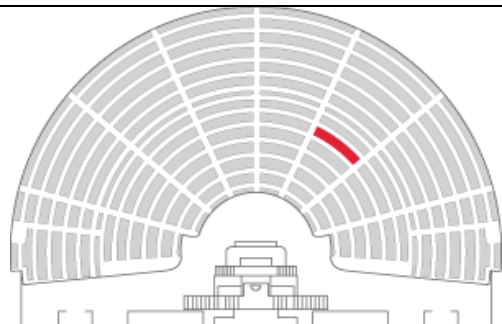


Position dans l'hémicycle de Yves Bur le député de la circonscription de Mundolsheim (numéro 4 sur la carte ci-dessous).

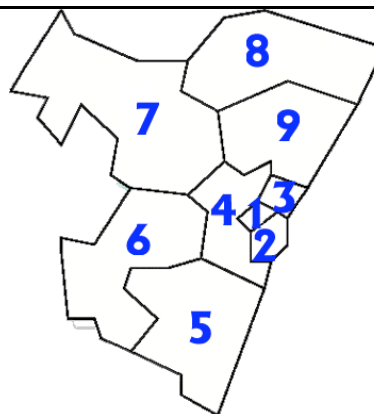
Représentez et coloriez en fonction des résultats et en vous inspirant de l'hémicycle de gauche la répartition des groupes dans la nouvelle assemblée.



Quelle était la proportion de femmes dans l'hémicycle pour la législature 2002-2007 ?
Coloriez alors cette proportion ?



Quelle était la proportion de femmes dans l'hémicycle pour la législature 2007-2012 ?
Coloriez alors cette proportion ?



- 1 :
- 2 :
- 3 :
- 4 :
- 5 :
- 6 :
- 7 :
- 8 :
- 9 :

En utilisant les couleurs ci-dessus, coloriez les circonscriptions selon le parti auquel appartient le député.